

第六单元《认识图形》检测题(B卷)(北师大版)

(时间:40分钟 总分:100分)

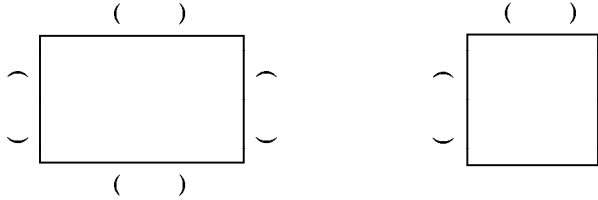
一、填空。(每空1分,共17分)

- 1. 长方形有()条边,对边(),四个角都是()。
- 2. 正方形有()条边,()条边相等,四个角都是()。
- 3. 平行四边形的特点:有()条边,()相等,()个钝角,()个锐角。
- 4. 我们学过的角中,比直角大的角是()角,比直角小的角是()角。
- 5. 角是由()个顶点,()条边组成。
- 6. 一个三角板上有()个角,其中有()个直角,()个锐角。

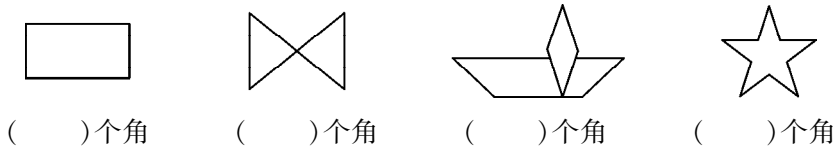
二、判断。(每空1分,共5分)

- 1. 一个角的两条边越长,这个角就越大。()
- 2. 平行四边形的四个角都是直角。()
- 3. 长方形和正方形的四个角都是直角。()
- 4. 钟面上9:00,时针和分针组成直角。()
- 5. 直角一定比钝角小,比锐角大。()


三、写出图形各部分名称。(每空1分,共6分)



四、数一数,下列图形各有几个角。(每空2分,共8分)



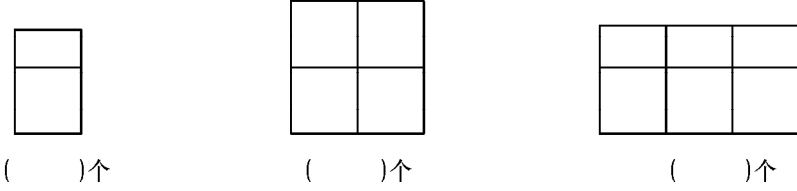
五、把一个正方形,剪去一个角,还剩几个角。画一画,填一填。(每图3分,共9分)



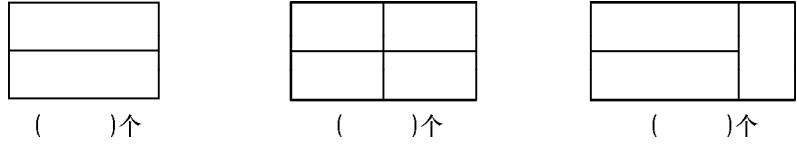
还剩()个角 还剩()个角 还剩()个角

六、数图形。(每空3分,共18分)


(1)图中有几个正方形。




(2)图中有几个长方形。




七、请在下面的点子图上分别画出相应的图形。（每图 3 分，共 18 分）




长方形




平行四边形




正方形



锐 角




直 角



钝 角

八、在下面的方格纸中分别画出一个长方形、正方形和平行四边形。（每图 3 分，共 9 分）



长方形

正方形

平行四边形

九、用我们学过的图形，请在下方格纸上设计一幅美丽的图案。（10 分）

